


# HOEKENSPEL



**Nodig:** één dobbelsteen met zes vlakken en twee pionnen.



































**Regels:** dobbel en zet je pion verder. Reken de som uit. Controleer samen je antwoord. Is je antwoord goed, dan krijg je net zo veel punten als de dobbelsteen in dat vakje aangeeft.

**START**



$36 + 32$


**START**

|  |  |  |  |  |
|--|--|--|--|--|
| <br>$52 - 15$   | <br>$46 - 35$   | <br>$39 + 16$   | <br>$59 - 20$   | <br>$41 + 23$   |
| <br>$45 + 21$   | <br>$62 - 21$   | <br>$52 - 21$   | <br>$28 + 10$   | <br>$81 - 43$   |
| <br>$93 - 47$   | <br>$58 - 17$   | <br>$35 + 48$   | <br>$38 + 24$   | <br>$36 + 18$   |
| <br>$74 - 37$ | <br>$83 - 34$ | <br>$34 - 16$ | <br>$38 + 47$ | <br>$60 - 43$ |
| <br>$17 + 41$ | <br>$47 + 42$ | <br>$36 + 41$ | <br>$18 + 28$ | <br>$44 + 25$ |
| <br>$68 - 44$ | <br>$32 + 17$ | <br>$37 + 30$ | <br>$32 + 39$ | <br>$44 + 39$ |
| <br>$28 + 35$ | <br>$34 + 25$ | <b>FINISH</b>  | <br>$20 + 11$ | <br>$17 + 28$ |

Dobbel je route door het doolhof. Antwoord goed, vakje voor jou en de punten! Wie heeft aan de finish de meeste

Kleur de vakjes die van jou zijn geworden. Je tegenstander kan die punten niet meer winnen. Je begint bij start, ieder in een eigen vakje. Wie is het snelst bij de finish met de meeste punten?

**START**



$12 + 30$

**START**

$20 + 14$   $29 + 42$   $34 + 38$   $25 + 42$   $78 - 36$

$37 + 16$   $37 + 28$   $48 - 18$   $10 + 26$   $35 + 13$

$35 + 41$   $46 - 10$   $45 + 37$   $43 + 35$   $40 + 39$

$35 + 12$   $49 + 21$   $36 + 15$   $36 + 49$   $49 + 32$

$27 + 18$   $24 + 21$   $19 + 18$   $74 - 45$   $67 - 28$


$14 + 31$   $46 + 21$   $96 - 49$   $56 - 26$   $49 + 25$

$21 + 41$   $48 + 29$  **FINISH**  $26 + 23$   $25 + 48$

Dobbel je route door het doolhof. Antwoord goed, vakje voor jou en de punten! Wie heeft aan de finish de meeste

Kleur de vakjes die van jou zijn geworden. Je tegenstander kan die punten niet meer winnen. Je begint bij start, ieder in een eigen vakje. Wie is het snelst bij de finish met de meeste punten?

**START**



**START**


**24 + 21**

Dobbel je route door het doolhof. Antwoord goed, vakje voor jou en de punten!  
Wie heeft aan de finish de meeste

|           |           |               |           |           |
|-----------|-----------|---------------|-----------|-----------|
| $20 + 47$ | $32 + 21$ | $88 - 39$     | $24 + 29$ | $17 + 29$ |
| $82 - 45$ | $38 + 26$ | $27 + 39$     | $23 + 30$ | $78 - 32$ |
| $26 + 27$ | $49 - 34$ | $52 - 13$     | $15 + 31$ | $40 + 13$ |
| $62 - 20$ | $67 - 30$ | $50 - 14$     | $40 - 11$ | $16 + 36$ |
| $13 + 27$ | $42 + 19$ | $48 + 20$     | $38 + 18$ | $60 - 20$ |
| $10 + 43$ | $40 + 18$ | $47 + 31$     | $27 + 15$ | $36 + 14$ |
| $30 + 33$ | $12 + 18$ | <b>FINISH</b> | $39 - 18$ | $45 + 45$ |



































Kleur de vakjes die van jou zijn geworden. Je tegenstander kan die punten niet meer winnen. Je begint bij start, ieder in een eigen vakje. Wie is het snelst bij de finish met de meeste punten?

**START**




**START**

Dobbel je route door het doolhof. Antwoord goed, vakje voor jou en de punten! Wie heeft aan de finish de meeste

|  |  |  |  |  |
|--|--|--|--|--|
| <br>40 + 39   | <br>57 - 24   | <br>25 + 19   | <br>23 + 35   | <br>37 + 43   |
| <br>39 - 28   | <br>62 - 32   | <br>15 + 32   | <br>37 + 24   | <br>13 + 15   |
| <br>84 - 49   | <br>42 + 20   | <br>86 - 49   | <br>46 - 28   | <br>23 + 44   |
| <br>11 + 49 | <br>18 + 30 | <br>42 + 11 | <br>22 + 11 | <br>33 + 11 |
| <br>22 + 25 | <br>47 + 42 | <br>29 + 35 | <br>40 + 21 | <br>60 - 43 |
| <br>23 + 14 | <br>35 + 28 | <br>39 + 32 | <br>48 + 30 | <br>10 + 49 |
| <br>37 + 14 | <br>40 + 23 | <b>FINISH</b>  | <br>66 - 28 | <br>18 + 22 |

Kleur de vakjes die van jou zijn geworden. Je tegenstander kan die punten niet meer winnen. Je begint bij start, ieder in een eigen vakje. Wie is het snelst bij de finish met de meeste punten?

**START**



**START**


**37 + 49**

Dobbel je route door het doolhof. Antwoord goed, vakje voor jou en de punten!  
Wie heeft aan de finish de meeste

|         |         |               |         |         |
|---------|---------|---------------|---------|---------|
| 61 - 30 | 49 - 26 | 77 - 30       | 39 + 27 | 35 - 17 |
| 46 + 27 | 25 + 38 | 68 - 45       | 74 - 36 | 22 + 38 |
| 57 - 40 | 70 - 36 | 28 + 27       | 75 - 44 | 82 - 38 |
| 36 + 40 | 31 + 25 | 20 + 32       | 46 - 14 | 40 + 17 |
| 10 + 28 | 45 - 34 | 51 - 40       | 57 - 40 | 36 + 29 |
| 34 + 27 | 13 + 35 | 25 + 36       | 59 - 44 | 18 + 23 |
| 68 - 36 | 13 + 24 | <b>FINISH</b> | 20 + 20 | 55 - 42 |



































Kleur de vakjes die van jou zijn geworden. Je tegenstander kan die punten niet meer winnen. Je begint bij start, ieder in een eigen vakje. Wie is het snelst bij de finish met de meeste punten?

**START**



**START**

Dobbel je route door het doolhof. Antwoord goed, vakje voor jou en de punten! Wie heeft aan de finish de meeste

|   |   |   |   |  |
|---|---|---|---|--|
| <br>$3 \times 3$ | <br>$36 + 17$      | <br>$22 + 31$      | <br>$2 \times 5$   | <br>$25 + 23$   |
| <br>$54 - 43$    | <br>$15 + 28$      | <br>$44 + 28$      | <br>$37 + 30$      | <br>$56 - 24$   |
| <br>$10 + 14$    | <br>$9 \times 5$   | <br>$44 + 14$      | <br>$6 \times 4$   | <br>$54 - 11$   |
| <br>$19 + 10$  | <br>$21 + 38$    | <br>$31 + 22$    | <br>$42 + 23$    | <br>$66 - 32$ |
| <br>$79 - 41$  | <br>$9 \times 7$ | <br>$4 \times 5$ | <br>$4 \times 1$ | <br>$30 + 12$ |
| <br>$27 + 17$  | <br>$43 + 32$    | <br>$43 - 6$     | <br>$32 + 23$    | <br>$68 - 25$ |
| <br>$30 + 22$  | <br>$27 + 16$    | <b>FINISH</b>   | <br>$9 \times 4$ | <br>$11 + 29$ |

Kleur de vakjes die van jou zijn geworden. Je tegenstander kan die punten niet meer winnen. Je begint bij start, ieder in een eigen vakje. Wie is het snelst bij de finish met de meeste punten?